

**CONCOURS D'ADJOINT TECHNIQUE TERRITORIAL PRINCIPAL DE 2^{ème} CLASSE
DES ÉTABLISSEMENTS D'ENSEIGNEMENT**

CONCOURS EXTERNE, INTERNE

Spécialité : Magasinage des Ateliers

- SESSION 2013 -

Mercredi 20 Novembre 2013

Épreuve écrite – durée 2 heures – Coefficient 2

Épreuve écrite consistant en la vérification au moyen de questionnaires ou de tableaux ou graphiques ou par tout autre support à constituer ou à compléter des connaissances techniques, notamment en matière d'hygiène et de sécurité, que l'exercice de la spécialité, au titre de laquelle le candidat concourt, implique de façon courante.

Le sujet comprend 5 pages y compris celle-ci.

RÈGLEMENT :

- Vous ne devez faire apparaître aucun signe distinctif dans votre copie, ni votre nom ou un nom fictif, ni signature ou paraphe
- Aucune référence (nom de collectivité, nom de personne,...) autre que celle figurant, le cas échéant, sur le sujet ou dans le dossier ne doit apparaître dans votre copie
- Seul l'usage d'un stylo noir ou bleu est autorisé (bille, plume ou feutre). Vous ne devez pas écrire au crayon à papier
- Les feuilles de brouillon ne seront en aucun cas prises en compte
- L'utilisation de la calculatrice (non programmable) est autorisée pendant la durée de l'épreuve

Le non-respect des règles ci-dessus peut entraîner l'annulation de la copie par le jury

N.B :

Une présentation peu soignée donne lieu à la perte d'un point, tout comme plus de 10 fautes d'orthographe.

SUJET :

1°) Donnez la durée de validité d'un CACES pour les engins de levage ? (0,5 point)

.....
.....
.....

2°) Qui délivre l'autorisation de conduite ? (0,5 point)

.....
.....
.....

3°) Citez les 3 documents nécessaires pour délivrer une autorisation de conduite.
(1,5 point)

.....
.....
.....

4°) Indiquez 3 familles de matériels concernés dont la conduite est soumise à autorisation de conduite. (1,5 point)

.....
.....
.....


5°) Sur l'étiquette d'identification d'une élingue que signifie CMU 5000 kg ? (0,5 point)

.....
.....
.....

6°) Que peut-on lire sur la partie visible de l'étiquette d'une élingue textile simple ?
(2 points)

.....

7°) Donnez la catégorie et la signification des pictogrammes suivant : (2,5 points)



.....
.....
.....




.....
.....
.....




.....
.....
.....




.....
.....
.....



.....
.....
.....



.....
.....
.....



.....
.....
.....



.....
.....
.....



.....
.....
.....

8°) Un incendie est une combustion. Donnez les 3 éléments nécessaires pour déclencher une combustion. (1,5 point)

.....
.....
.....

9°) Que signifie CHS ? (0,5 point)

.....
.....
.....

10°) Que signifie : « stock d'alerte » ? (0,5 point)

.....
.....
.....

11°) Citez 3 types d'inventaires. (1,5 points)

.....
.....
.....

12°) En termes de magasinage, qu'appelle-t-on : « famille et sous-famille » ?
(1 point)

.....
.....
.....

13°) Désignez les conditions à respecter pour le stockage de produits chimiques.
(1,5 point)

.....
.....
.....

14°) Citez 4 données de bases inscrites sur une « fiche article ». (1 point)

.....

.....

.....

.....

15°) Quelles sont les principales fonctions d'un stock ? (1 point)

.....

.....

.....

16°) Vous devez avec un transpalette déplacer 12 cartons, contenant chacun 6 bouteilles d'un poids de 900 gr, le tout sur une palette de 12 kg. Calculez le poids total de la charge à soulever (justifier vous calculs) (2,5 points)

.....

.....

.....